

Школьная олимпиада по труду (технологии) 2025-2026 уч. год в 5-6 классе.

«Культура дома и декоративно-прикладное творчество»

включает в себя: теоретический конкурс, практические задания и защиту творческих проектов. Тестовые задания подготовлены по всем основным разделам предмета труд (технология) в соответствии с образовательным стандартом РФ для учащихся основного общего образования, практическая работа соответствует перечню необходимых умений. Олимпиада проходит в течение одного дня.

Перед началом проведения конкурсов участники школьного этапа должны **пройти инструктаж по технике безопасности.**

1. Тестирование - 1 часа (60 мин.),
2. Выполнение практических работ – 2 академических часа (90 минут)
3. Защита (презентация) творчески проектов (не более 7 мин.).

Проверка и разбор выполненных олимпиадных заданий и оценка проектов муниципального этапа олимпиады осуществляется жюри в соответствии с разработанными критериями.

Рекомендованный порядок проведения оценки творческого проекта олимпиады по труду (технологии)

Пояснительная записка- 10 баллов

Изделие-20 баллов

Защита проекта-10 баллов

Общая максимальная оценка по итогам выполнения заданий олимпиады по труду (технологии) в 5 - 6 классе.

Теоретический тур -25 баллов предлагается 25 вопросов с одним правильным ответом. Каждый правильный ответ оценивается в 1 балл.

Практический тур- 35 баллов

Подведение итогов: участник, набравший максимальное количество баллов (больше чем 50%) является победителем данного тура олимпиады.


Практическая часть задания.

Задание: изготовить декоративную салфетку.

Исходные материалы – хлопчатобумажная ткань гладкокрашенная, нитки мулине двух – трёх цветов, копировальная бумага, карандаш:

Размеры кроя: основная деталь (1 шт.) — 15 x 15 см.

Инструменты и оборудование: игла для вышивки, булавки, ножницы, утюг.

Последовательность выполнение работы	Графическое изображение
Переведите рисунок на ткань.	
Вышейте тамбурным швом контур листа. Прожилки листа вышейте стебельчатым швом.	
<i>Самоконтроль:</i> <ul style="list-style-type: none">• качество перевода рисунка на ткань;• качество выполнения вышивки;• одинаковая длина стежка;• качество ВТО;• соблюдение правил техники безопасности.	

Всероссийская олимпиада по труду (технологии) (школьный тур)
5 - 6 класс (девочки) 2025 - 2026 уч. год

В бланке ответов отметьте знаком «+» правильные ответы, слова и предложения.

1. Занавеси из тонкой прозрачной ткани: тюля, вуали, органзы и т.д.

- а) карниз;
- б) жалюзи;
- в) ламбрекен;
- г) штора;
- д) гардина.

2. Впишите термин, являющийся правильным ответом:

_____ отделочная деталь прямоугольной формы, выкроенная по уточной нити или под углом 45° к нити основы шириной в зависимости от модели, длиной в 1,5—2 раза больше длины в готовом виде, присборенная с одной стороны и той же стороной притачанная к изделию. Ширина детали зависит от модели.

3. К тепловой обработке продуктов не относится

- а) варка;
- б) сушка;
- в) жаренье.

4. К бытовым электроприборам на кухне не относится

- а) холодильник;
- б) посудомоечная машина;
- в) телевизор;
- г) микроволновая печь.

5. Как нужно передавать нож по правилам этикета?

- а) острием вниз
- б) ручкой вперед
- в) острием вперед
- г) острием вверх

6. Интерьер – это...

- а) расположение комнат в помещении;
- б) внутреннее убранство;
- в) цветовая гамма;
- г) количество подсобных помещений;

7. Сандвичи, канапе – это...?

- а) овощи;
- б) ягоды;
- в) бутерброды.

8. Внимательно рассмотрите изображения сервировки стола. Для каждого названия приема пищи выберите одно, соответствующее ему изображение сервировки.

Названия приемов пищи			
1. завтрак		2. обед	
			
а	б	в	г

9. Ткань, окрашенная в один цвет, называется:

- а) отбельная;
- б) пестротканая;
- в) гладкокрашенная

10. Долевая нить при растяжении

- а) изменяет свою длину
- б) не изменяет свою длину

11. Текстильные волокна делятся на натуральные и

- а) растительные;
- б) минеральные;
- в) химические.

12. Что является сырьем для производства ткани

- а) вата;
- б) пряжа;
- в) треста.

13. Установите соответствие между названием шва и условным обозначением

1.стачной вразутюжку	А	
2.стачной взаутюжку	Б	
3.вподгибку с открытым срезом	В	
4.вподгибку с закрытым срезом	Г	

14. Что можно изменить с помощью моделирования

- а) размер изделия;
- б) фасон изделия;
- в) цвет изделия.

15. Концы строчек на швейной машине закрепляют

- а) двойной обратной строчкой;
- б) узелком;
- в) петлей.

16. Установите соответствие между понятием и определением.

1.сметать	А. временно закрепить подогнутые края детали, складки прямыми стежками
2.наметать	Б. временно соединить две или несколько деталей, примерно равных по величине, по намеченным линиям прямыми стежками
3.заметать	В. временно соединить две детали, наложенные одна на другую, прямыми стежками

17. Установите соответствие между изображениями моделей фартуков и тем, для чего предназначены эти модели.

А	Б	В

Назначение

- 1) для работы на кухне
- 2) для работы в саду
- 3) для детского творчества
- 4) парадная школьная форма сороковых-восемидесятых годов XX-го века
- 5) фартук продавца продовольственного магазина

18. Устройство, с помощью которого швейная машина может приводиться в движение

- а) регулятор длины стежка;
- б) привод;
- в) нитепритягиватель;
- г) нитенаправитель.

19. Нитки, применяемые при вышивании называются

- а) капрон;
- б) мулине;
- в) нейлон.

20. Важным аспектом при изготовлении изделий из лоскута является

- а) цветовое решение;
- б) цена ткани;
- в) размер изделия.

21. Вставьте пропущенное слово МЕРКИ СНИМАЮТ С _____ СТОРОНЫ ФИГУРЫ.

22. Занавеси из тонкой прозрачной ткани: тюля, вуали, органзы и т.д.

- а) карниз;
- б) жалюзи;
- в) ламбрекен;
- г) штора;
- д) гардина.

23. Интерьер - это

- а) расположение комнат в помещении;
- б) внутреннее убранство;
- в) цветовая гамма;
- г) количество подсобных помещений.

24. Ряд повторяющихся стежков на ткани называется

- а) строчка;
- б) шов;
- в) стежок.

25. К каким швам относится шов в подгибку

- а) соединительным;
- б) краевым;
- в) настрочным

Школьная олимпиада по труду (технологии) 2025-2026уч. год в 7-8 классе. «Культура дома и декоративно-прикладное творчество»

включает в себя: теоретический конкурс, практические задания и защиту творческих проектов. Тестовые задания подготовлены по всем основным разделам предмета труд (технология) в соответствии с образовательным стандартом РФ для учащихся основного общего образования, практическая работа соответствует перечню необходимых умений. Олимпиада проходит в течение одного дня.

Перед началом проведения конкурсов участники школьного этапа должны **пройти инструктаж по технике безопасности**.

1. Тестирование – 2 академических часа (90 мин.),
2. Выполнение практических работ - 2 академических часа (90 минут)
3. Защита творчески проектов (не более 7 мин.).

Проверка и разбор выполненных олимпиадных заданий и оценка проектов муниципального этапа олимпиады осуществляется жюри в соответствии с разработанными критериями.

Рекомендованный порядок проведения оценки творческого проекта олимпиады по труду (технологии)

Пояснительная записка-10 баллов

Изделие-20 баллов

Защита проекта-10 баллов

Общая максимальная оценка по итогам выполнения заданий олимпиады по труду (технологии) в 7 – 8 классе.

Теоретический тур -25 баллов предлагается 25 вопросов с одним правильным ответом. Каждый правильный ответ оценивается в 1 балл.

Практический тур- 35 баллов

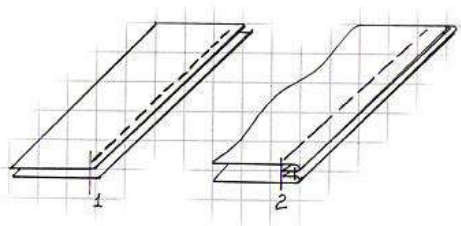
Подведение итогов: участник, набравший максимальное количество баллов (больше чем 50%) является победителем данного тура олимпиады.

Практическая часть задания.

«Выполнение двойного шва»

Двойной шов применяется в основном при изготовлении постельного белья, стачивании подкладки карманов.

Вам потребуется два куска ткани размером 15х10 см.

№ п/п	Содержание операции	Рисунок
1	Детали складываем изнаночной стороной внутрь и, уравнив срезы, стачиваем вдоль длинной стороны (Рис. 1) по лицевой стороне на расстоянии 0,3 - 0,4 см от края	
2	Срезы разутюживаем	
3	Перегибаем детали лицевыми сторонами внутрь и прокладываем вторую строчку, отступая от края на 0,5-0,7 см. Припуски ткани на шов закрыты строчкой (Рис. 2)	
4	Шов приутюживаем	

Самоконтроль:

- машинные строчки – ровные, аккуратные;
- ширина швов соответствует заданным величинам;
- наличие машинных закрепок;
- качество ВТО;
- соблюдение правил техники безопасности.

Всероссийская олимпиада по труду (технологии) (школьный тур)
7 - 8 класс (девочки) 2025 - 2026 уч. год

В бланке ответов отметьте знаком «+» правильные ответы, слова и предложения.

1. Из какой зерновой культуры производят крупу «Геркулес».

- | | |
|-------------|-------------|
| а) пшеница; | г) овес; |
| б) полба; | д) гречиха; |
| в) рис; | е) пшено |

2. Из предложенного списка выберите продукты растительного происхождения.

- | | |
|-----------|-----------------------|
| а) мясо | г) масло подсолнечное |
| б) дайкон | д) рыба |
| в) яйцо | е) картофель |

3. Как нужно передавать нож по правилам этикета?

- | | |
|------------------|-------------------|
| а) остриём вниз | в) остриём вперёд |
| б) ручкой вперёд | г) остриём вверх |

4. Из предложенного списка выберите продукты животного происхождения.

- | | |
|-------------|--------------------|
| а) говядина | г) масло сливочное |
| б) дайкон | д) авокадо |
| в) яйцо | е) картофель |

5. Длинный желобок машинной иглы служит

- а) для заправки верхней нити;
б) для предохранения верхней нити от перетирания;
в) для образования петли

6. Салатными заправкам являются:

- | | |
|-------------|------------------------|
| а) майонез; | в) уксус; |
| б) сметана; | г) растительное масло. |

7. Кляр – это:

- | | |
|-------------------------------|------------------|
| а) подсолнечное масло и соль; | в) жидкое тесто; |
| б) вода и специи; | г) молоко и соль |

8. Какое тесто используют для приготовления пельменей?

- | | |
|--------------|-------------|
| а) дрожжевое | в) песочное |
| б) пресное | г) слоенное |

9. К какому русскому народному промыслу относится изделие (см. рисунок) традиционно красного или черного цвета с крупным цветочным узором?



10. Бюджет семьи – это...

- а) все расходы семьи; в) все расходы и доходы семьи;
б) все доходы семьи; г) нет правильного ответа






11. Комнатные растения в интерьере размещают

- а) в рожках люстр;
- б) на подоконниках;
- в) в ванной комнате.

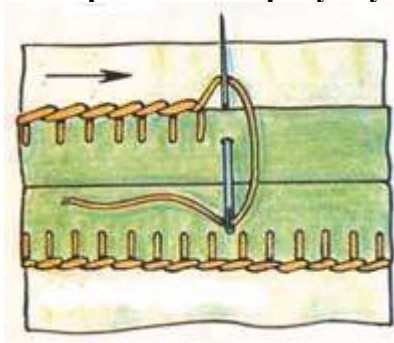
12. Расположите буквы А Б Г И К К Н П Р С У в таком порядке, чтобы получилось название рукоделия, заключающегося в изготовлении и оформлении семейных или личных фотоальбомов



13. Установите соответствие между условными обозначениями и правилами ухода за изделиями

А		1. Чистка химическими препаратами
Б		2. Сушка изделия в горизонтальном положении
В		3. Отбеливать нельзя
Г		4. Стирка производится только вручную
Д		5. Утюжить при температуре не выше 150°

14. определите по рисунку вид ручного шва.



OTBET

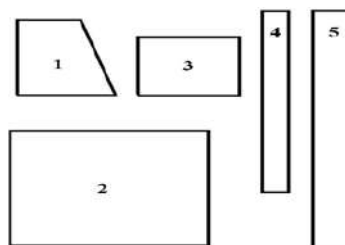
15. Примерку швейного изделия в процессе его пошива производят:

- а) для правильной посадки изделия по фигуре;
- б) для вшивания молнии;
- в) для обработки нижнего среза.

16. На рисунке изображены детали кроя фартука.

Установите соответствие между деталями кроя и их названиями.

А	карман
Б	пояс
В	бретель
Г	нагрудник
Д	нижняя часть фартука



17. При раскрое изделия необходимо учитывать:

- а) расположение рисунка на ткани;
- б) направление нитей основы;
- в) ширину ткани;
- г) направление нитей утка;
- д) величину припусков на швы.

18. Разутюжить-это:

- а) удалить замины на тканях и деталях изделия;
- б) отогнуть припуски шва на одну сторону и закрепить их в этом положении;
- в) разложить припуски шва на две стороны и закрепить их в этом положении.

19. При обработке нижнего среза изделия применяют швы:

- а) стачной;
- б) вподгибку с закрытым срезом;
- в) двойной;
- г) вподгибку с открытым срезом.

20. Проектная деятельность состоит из таких этапов как:

- а) вводный, текущий, заключительный;
- б) поисковый, конструкторский, технологический, заключительный;
- в) теоретический, практический, аналитический;
- г) учебно-познавательный, технологический, заключительный.

21. Как называется этот предмет гардероба _____, который служит отделочным элементом для украшения выреза блузки, платья или мужской рубашки



22. Экологические знаки информируют потребителя о различных показателях экологических свойств товаров. Рассмотрите приведённый знак.



Из предложенных вариантов ответа выберите то описание, которое точнее указывает, что означает данный знак.

- а) Знак указывает, что объект опасен для окружающей среды.

- б) Знак означает, что данную вещь следует выбросить в урну.
- в) Знак означает, что данный продукт может быть опасен для здоровья.
- г) Знак означает замкнутый цикл: создание – применение – утилизация.
- д) Знак указывает, что данную вещь необходимо собирать и выбрасывать отдельно.
- е) Знак указывает, что отдельные компоненты продукта не были протестированы на животных.
- ж) Знак означает, что товар изготовлен из нетоксичного материала и может соприкасаться с пищевыми продуктами.
- з) Знак означает, что данную вещь изготовили из сырья, пригодного для переработки или из вторичного (переработанного) сырья.

23. При раскрое ткани пользуются ножницами:

- а) садовыми;
- б) канцелярскими;
- в) портновскими.

24. Моделирование – это:

- а) выполнение расчёта и построение чертежей деталей швейных изделий;
- б) создание различных фасонов (форм) швейного изделия на основе базовой выкройки;
- в) нанесение на базовую выкройку направления долевой нити.

25. Укажите правильную последовательность технологии изготовления швейного изделия:

- а) построение выкройки;
- б) влажно – тепловая обработка;
- в) снятие мерок;
- г) раскрой ткани;
- д) пошив изделия.

Школьная олимпиада по труду (технологии) 2025-2026уч. год в 9-11 классе.

«Культура дома и декоративно-прикладное творчество»

включает в себя: теоретический конкурс, практические задания и защиту творческих проектов. Тестовые задания подготовлены по всем основным разделам предмета труд (технология) в соответствии с образовательным стандартом РФ для учащихся основного общего образования, практическая работа соответствует перечню необходимых умений. Олимпиада проходит в течение одного дня.

Перед началом проведения конкурсов участники школьного этапа должны **пройти инструктаж по технике безопасности.**

1. Тестирование – 2 академических часа (90 мин.),
2. Выполнение практических работ - 2 академических часа (90 минут)
3. Защита творчески проектов (не более 7 мин.).

Проверка и разбор выполненных олимпиадных заданий и оценка проектов муниципального этапа олимпиады осуществляется жюри в соответствии с разработанными критериями.

Рекомендованный порядок проведения оценки творческого проекта олимпиады по труду (технологии)

Пояснительная записка-10 баллов

Изделие-20 баллов

Защита проекта-10 баллов

Общая максимальная оценка по итогам выполнения заданий олимпиады по труду (технологии) в 9-11 классе.

Теоретический тур -25 баллов предлагается 25 вопросов с одним правильным ответом. Каждый правильный ответ оценивается в 1 балл.

Практический тур- 35 баллов

Подведение итогов: участник, набравший максимальное количество баллов (больше чем 50%) является победителем данного тура олимпиады.

Практическая часть задания.

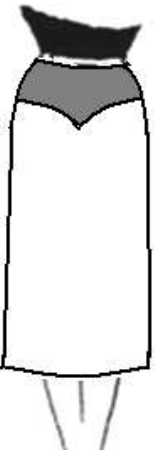
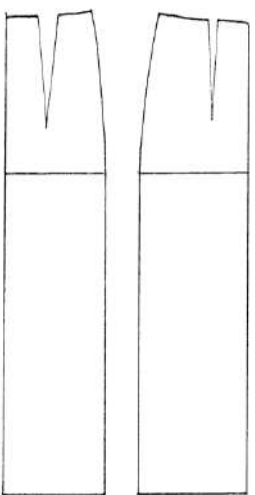
«Моделирование швейных изделий.»

Дан вид юбки спереди:

Юбка прямая, с фигурной кокеткой спереди. Линия талии оформлена притачным поясом. Застежка на тесьму-молнию в левом боковом шве.

Задание:

1. Назвать детали переднего полотнища, указать их количество.
2. В соответствии с эскизом внесите изменения в базовый чертеж основы юбки.
3. Указать направление долевой нити, сгиб (если есть), середину детали (если есть)

Модель юбки	Базовый чертёж
	

Всероссийская олимпиада по труду (технологии) (школьный тур)
9-11 класс (девочки) 2025-2026 уч. год

В бланке ответов отметьте знаком «+» правильные ответы, слова и предложения.

1. Ресурсы семьи – это....

- а) социальное желание иметь что-либо в семье;
- б) правильное планирование бюджета семьи;
- в) всё, чем располагает семья.

2. Торговый знак, содержащий фирменное название продукции, символ компании, состав, рекламные материалы и инструкции для пользователя - это...

- а) маркировка;
- б) этикетка;
- в) вкладыш;
- г) инструкция

3. Что из приведённого списка является выпечкой?

- а) паэлья
- б) борщ
- б) канапе
- г) расстегай
- в) круассан
- д) сочник

4. Впишите в правую колонку таблицы термин из приведенного списка, соответствующий его определению: 1) простой бутерброд, 2) сандвич, 3) канапе, 4) гренки

Определение	Термин
а) Маленькие закусочные бутерброды	
б) Бутерброд с одним продуктом	
в) Бутерброд на обжаренном ломтике хлеба	
г) Закрытый бутерброд	

5. По правилам этикета во время приема пищи салфетку кладут на колени:

- а) полностью развернутой;
- б) сложенной вдвое с верхней частью короче нижней;
- в) сложенной по диагонали;

6. Кто по правилам этикета первым садится за праздничный стол?

- а) подростки
- б) мужчины
- в) хозяйка дома
- г) женщины

7. Расположите буквы ИНАЗШАК в таком порядке, чтобы получилось название вида декоративно-прикладного искусства.



8. Ткань, снятая с ткацкого станка, называется:

- 1. набивная;
- 2. гладкокрашеная;
- 3. суровая;
- 4. неотбеленная;
- 5. сукно;
- 6. грубокрашеная.

9. Какой из видов льна выращивают для получения волокна?

- а) лен-межеумок;
- б) лен-долгунец;
- в) лен-кудряш.

10. На фото представлен вид рукоделия, который возник в Эпоху Возрождения и являлся привилегией аристократии. Назовите данный вид рукоделия.



11. Внимательно рассмотрите рисунки в вопросе 10, изображающие старинные приспособления и современные приборы.

Для удовлетворения какой потребности они предназначены?

- а) изготовление вязанных изделий
- б) выполнение влажно-тепловой обработки изделий
- в) измельчение пищевых продуктов
- г) приготовление кофе
- д) выполнение вышивки
- е) изготовление ткани (ткачество)

12. Появившийся сотни лет назад, метод моделирования одежды, представленный на фото, и сегодня остается актуальным и востребованным. Виртуозно владеют им немногие. Это - вершина мастерства. Он позволяет наиболее точно воплотить задуманную форму с учетом пластических свойств материала. Суть метода - создание формы одежды непосредственно из материала. Он не требует чертежа конструкции и каких-либо предварительных построений. Назовите представленный метод моделирования одежды



Ответ _____

13. Установите соответствие между рисунками, на которых изображены разные модели одежды и тем, для чего предназначены эти модели.

Эскиз (фото моделей)					
а)		б)		в)	
г)					

Назначение

- 1) для работы в офисе (деловой стиль)
- 2) для торжественных случаев
- 3) для прогулок в тёплое время года или похода на пляж
- 4) для выступления в балетном спектакле
- 5) для отдыха и работы по дому
- 6) для работы в огороде

14. Процесс получения ткани из нитей путем их переплетения называется:

- а) прядением; б) ткачеством; в) отделкой.

15. Неосыпающийся край ткани называется:

- а) уток; б) основа; в) кромка; г) ширина ткани.

16. Кто занимается моделированием одежды?

- а) швея; б) закройщик; в) художник-модельер; г) конструктор;

17. Прибавки к меркам необходимы для того, чтобы

- а) компенсировать изменение размеров одежды после стирки
б) обеспечить свободу облегания изделия на фигуре
в) увеличить размеры деталей для обработки срезов
г) увеличить размер одежды

18. К швейным изделиям плечевой группы относятся:

- а) юбка; б) ночная сорочка; в) брюки.

19. Какой механизм из приведённого списка используется для регулировки натяжения нижней нити в швейной машине?

- а) нитепритягиватель
б) регулятор прижима лапки
в) регулятор длины стежка
г) регулировочный винт на шпульном колпачке

20. Концы строчек на швейной машине закрепляют

- а) двойной обратной строчкой; б) узелком; в) петлей.

21. Нити, проходящие поперек основы ткани, называются:

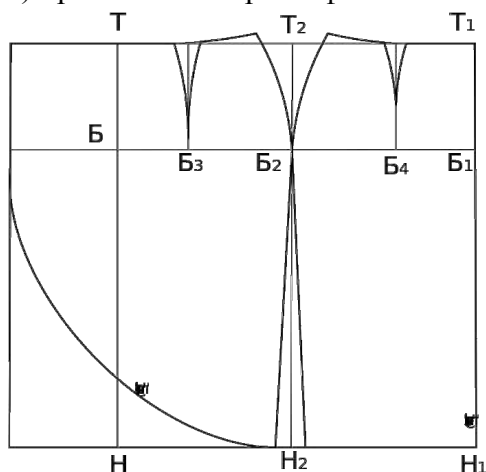
- а) уток
б) долевая нить
в) продольная нить
г) челночная нить

22. Моделирование – это:

- а) выполнение расчета и построение чертежа
б) создание различных фасонов
в) снятие мерок

23. На рисунке представлен чертеж прямой юбки. Определите модель

- а) прямая юбка с запахом и сборкой по линии талии;
б) прямая юбка с запахом, переходящим в волан;
в) прямая юбка с запахом;
г) прямая юбка с рельефами на кокетке



24. Экологические знаки информируют потребителя о различных показателях экологических свойств товаров. Рассмотрите приведённый знак.



Из предложенных вариантов ответа выберите то описание, которое наиболее точно указывает, что означает данный знак.

- а) Знак указывает, что объект опасен для окружающей среды.
- б) Знак означает, что данную вещь следует выбросить в урну.
- в) Знак означает, что данный продукт может быть опасен для здоровья.
- г) Знак означает замкнутый цикл: создание – применение – утилизация.
- д) Знак указывает, что данную вещь необходимо собирать и выбрасывать отдельно.
- е) Знак указывает, что отдельные компоненты продукта не были протестированы на животных.
- ж) Знак означает, что товар изготовлен из нетоксичного материала и может соприкасаться с пищевыми продуктами.

25. Для профессии типа «Человек – техника» основной трудовой функцией является:

- а) передача людям необходимой им информации;
- б) изготовление и сборка изделий на производстве;
- в) составление таблиц, схем, программ для вычислительных машин;
- г) рисование картин, изготовление скульптур