

2.ЗАДАНИЯ ТЕОРЕТИЧЕСКОГО ТУРА (45 БАЛЛОВ)

ЗАДАНИЕ 1. Определите пропущенные слова в тексте и цифры, которым они соответствуют.

Используйте предложенный список. Запишите слова или словосочетания напротив соответствующих цифр:

«Твердую оболочку Земли, состоящую из земной коры и верхней части мантии, называют __1__. Она не монолитна, а разбита разломами на отдельные блоки - __2__. Эти блоки перемещаются по пластичному слою __3__. Самая верхняя каменная оболочка Земли - __4__ - устроена по-разному на __5__ и под __6__. Более мощная __7__ кора может достигать до 75 км. Намного тоньше __8__ кора. В ней отсутствует __9__ слой. Как в глубоких слоях земной коры, так и на ее поверхности образовывались минералы, которые являются основой для __10__.

Список слов и словосочетаний:

Мантия, океаническая, материки, литосфера, земная кора, горные породы, литосферные плиты, континентальная, «гранитный», океаны .

(10 БАЛЛОВ)

1		6	
2		7	
3		8	
4		9	
5		10	

Задание 2. Выберите «лишнее звено» в каждой логической цепочке. Объясните свой выбор. **(20 баллов)**

А. Литосфера, атмосфера, стратосфера, биосфера, гидросфера.

Б. Глобус, план местности, карта России, карта полушарий, топографическая карта.

В. Юго-запад, северо-восток, северо-запад, север, юго-восток.

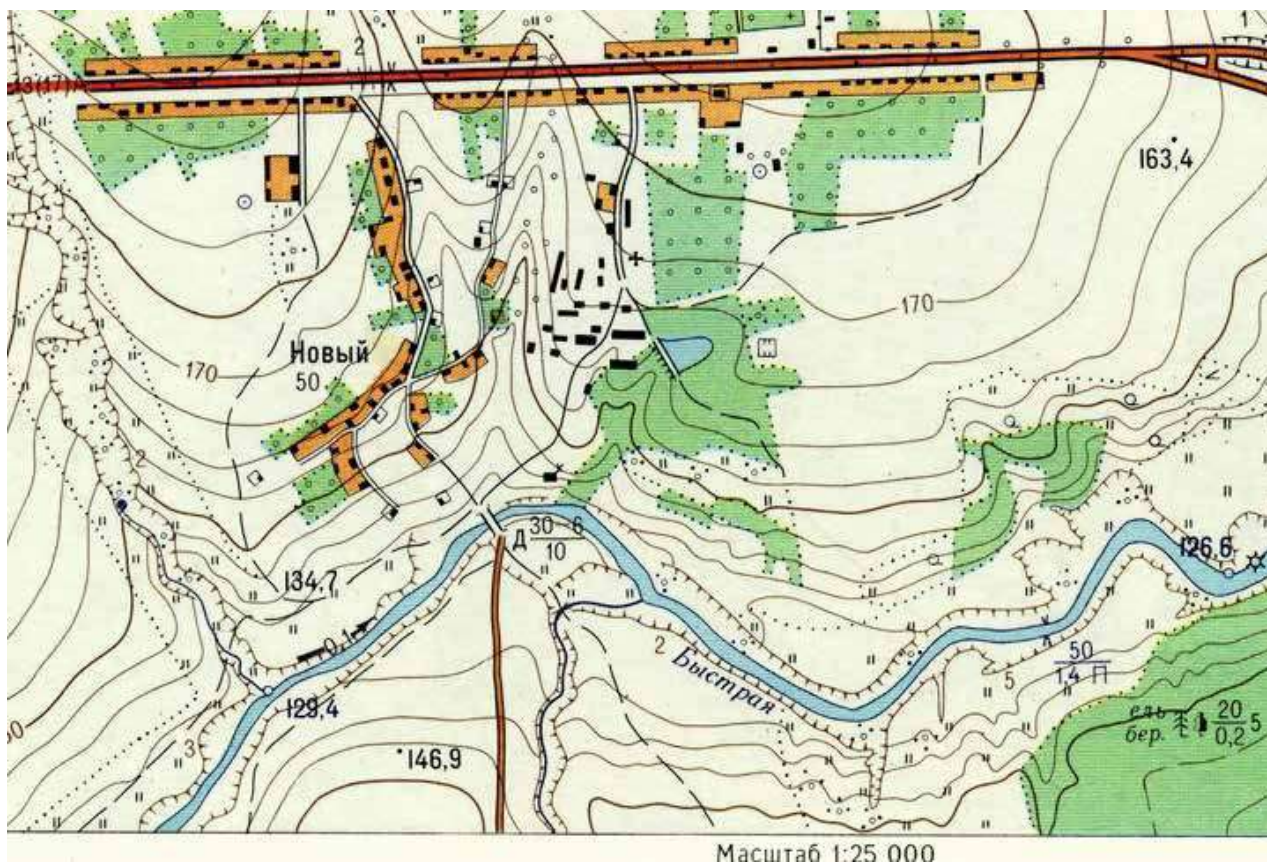
Г. Гималаи, Уральские горы, Кавказские горы, Альпы, Кордильеры.

Логическая цепочка	«Лишнее звено» – белая ворона 2 балла	Объяснение 3 балла
А		
Б		
В		
Г		

Задание 3. (15 баллов)

Если расстояние между городами Москва и Дели составляет 4500 км, что соответствует 6 см на карте, то каково реальное расстояние между городами София и Баку, если известно, что расстояние между ними на этой же карте равно 2 см 8 мм? Чему равен масштаб карты? Запишите ход решения и окончательный ответ.

Практическая часть.



Рассмотрите фрагмент топографической карты. Вставьте в текст пропущенные слова, и начертите на карте маршрут движения группы.

Школьники решили отправиться в поход выходного дня по окрестностям. Рано утром они встретились у церкви, в посёлке __ (1) __, у входа в __ (2) __. Когда все участники похода были в сборе, группа отправилась в южном направлении. Пройдя около __ (3) __ м, дошли до развилки дорог. На __ (4) __ шла дорога в сторону __ (5) __ через реку, а на __ (6) __ в сторону __ (7) __ через __ (8) __. Решено было идти в сторону реки. Постепенно спускаясь к берегу реки __ (9) __, дошли до __ (5) __. Преодолев по нему реку, увидели __ (10) __, которая шла вдоль невысокого __ (11) __ высотой __ (12) __ м. Она привела их к небольшому __ (13) __. Перейдя его вброд, направились к оврагу. Затем вышли на __ (14) __ и дошли до опушки __ (15) __. Там сделали привал и начали готовить обед.

1		9	
2		10	
3		11	
4		12	
5		13	
6		14	
7		15	
8			

Всероссийская олимпиада школьников по географии

школьный этап 2023-2024 год

5 – 6 класс

Тестовый тур

Выберите правильный ответ. За каждый верный ответ – 2 балла.

1. Что на плане местности обозначают зелёным цветом?

- а) низкие участки суши
- б) населённые пункты
- в) растительность
- г) высокие участки суши

2. Что не является планетой?

- а) Сатурн
- б) Меркурий
- в) Солнце
- г) Земля

3. Если встать лицом на север, то по правую руку у нас будет:

- а) запад
- б) восток
- в) юг
- г) север

4. Какое море омывает берега России?

- а) Белое
- б) Жёлтое
- в) Северное
- г) Красное

5. Укажите имя путешественника, который открыл Новый Свет:

- А) Фернан Магеллан
- Б) Васко да Гама
- В) Христофор Колумб
- Г) Марко Поло

6. Смена дня и ночи на Земле объясняется?

- а) движением Земли вокруг своей оси
- б) движением Земли вокруг Солнца
- в) суточной ритмикой географической оболочки
- г) изменением наклона земной оси к плоскости орбиты

7. Что изучают сейсмологи?

- а) ураганы
- б) землетрясения
- в) ледники
- г) озёра

8. Что такое горизонталь ?

- А) Линия, соединяющая точки с одинаковыми глубинами
- Б) Линия, соединяющая точки с одинаковой абсолютной высотой
- В) Горизонтальные линии, образующие градусную сеть
- Г) Линии, соединяющие точки с одинаковой температурой

9. Какое из перечисленных озёр является самым глубоким в мире?

- А) Онежское
- Б) Байкал
- В) Каспийское
- Г) Балхаш

10. Где на Земле можно построить дом, у которого все четыре стороны будут обращены на юг?

- А) на Южном полюсе
- Б) на экваторе
- В) на Северном полюсе
- Г) на полярном круге

ВСЕРОССИЙСКАЯ ОЛИМПИАДА ШКОЛЬНИКОВ ПО ГЕОГРАФИИ
ШКОЛЬНЫЙ ЭТАП

7-8 класс

Уважаемый участник олимпиады!

Вам предстоит выполнить теоретические и тестовые задания. Время выполнения заданий 1 час 30 минут (90 минут).

Выполнение *теоретических (письменных) заданий* целесообразно организовать следующим образом:

- не спеша, внимательно прочитайте задание и определите, наиболее верный и полный ответ;
- отвечая на теоретические вопросы и выполняя практические задания, обдумайте и сформулируйте конкретный ответ только на поставленный вопрос;
- если Вы отвечаете на задание, связанное с заполнением таблицы или схемы, не старайтесь детализировать информацию, вписывайте только те сведения или данные, которые указаны в вопросе;
- особое внимание обратите на задания, в выполнении которых требуется выразить Ваше мнение с учетом анализа ситуации или поставленной проблемы. Отвечая на вопрос, предлагайте свой вариант решения проблемы, при этом ответ должен быть кратким, но содержать необходимую информацию;
- после выполнения всех предложенных заданий еще раз удостоверьтесь в правильности выбранных Вами ответов и решений.

Выполнение *тестовых заданий* целесообразно организовать следующим образом:

- не спеша, внимательно прочитайте тестовое задание;
- определите, какой из предложенных вариантов ответа наиболее верный и полный;
- напишите букву (цифру), соответствующую выбранному Вами ответу;
- продолжайте, таким образом, работу до завершения выполнения тестовых заданий;
- после выполнения всех предложенных заданий еще раз удостоверьтесь в правильности ваших ответов;
- если потребуется корректировка выбранного Вами варианта ответа, то неправильный вариант ответа зачеркните крестиком, и рядом напишите новый.

Предупреждаем Вас, что:

- при оценке тестовых заданий, где необходимо определить один правильный ответ, 0 баллов выставляется за неверный ответ и в случае, если участником отмечены несколько ответов (в том числе правильный), или все ответы;

- при оценке тестовых заданий, где необходимо определить все правильные ответы, 0 баллов выставляется, если участником отмечены неверные ответы, большее количество ответов, чем предусмотрено в задании (в том числе правильные ответы) или все ответы.

Тестовый тур

Задания 1-15 предполагают 1 правильный ответ и оцениваются в 1 балл. Буквы правильных вариантов ответов нужно записать в таблицу, расположенную после вопросов. Максимальное количество баллов – 15.

1. Укажите неверное утверждение:
 - 1) Солнце в полдень в Северном полушарии находится на юге;
 - 2) лишайники растут гуще с северной стороны ствола;
 - 3) азимут отсчитывается от направления на юг против часовой стрелки;
 - 4) прибор, с помощью которого можно ориентироваться, называется компас.

2. Определите примерную высоту горы, если известно, что у ее подножия температура воздуха составила $+16^{\circ}\text{C}$, а на ее вершине -8°C :
 - 1) 1,3 км;
 - 2) 4 км;
 - 3) 24 км;
 - 4) 400 м.

3. Самая низкая температура воздуха, зафиксированная на земном шаре, составляет $-89,2^{\circ}\text{C}$. Выберите место, где это могло быть:
 - 1) Оймякон (Россия);
 - 2) Северный полюс;
 - 3) Антарктида (станция Восток)
 - 4) о. Гренландия.

4. Каков численный масштаб плана, на котором расстояние от автобусной остановки до стадиона, составляющее 750 м, изображено отрезком длиной 3 см.
 - 1) 1: 25
 - 2) 1: 250
 - 3) 1: 2500
 - 4) 1: 25 000
 - 5) 1: 250 000

5. Наука, изучающая географические названия:
 - 1) геодезия;
 - 2) картография;
 - 3) топонимика;
 - 4) топография.

6. Укажите верное утверждение.
 - 1) Восточно-Европейская равнина имеет плоскую поверхность;
 - 2) Алтайские горы расположены на материке Евразия;
 - 3) Вулкан Ключевская Сопка расположен на Скандинавском полуострове;
 - 4) Гора Казбек – самая высокая вершина Кавказа.

7. К окраинным морям относится:
1) Карское море; 2) Черное;
3) Средиземное; 4) Балтийское.
8. Нулевой меридиан проходит через город:
1) Лондон; 2) Париж; 3) Берлин; 4) Москва.
9. Восточную окраину материка Евразия омывает:
1) Индийский океан; 2) Атлантический;
3) Тихий океан; 4) Северный Ледовитый океан.
10. Какое соответствие «горная порода – её тип по происхождению» является верным?
1) глина – магматическая;
2) гранит – осадочная;
3) мрамор – метаморфическая;
4) базальт – осадочная.
11. Какие хищные млекопитающие обитают в Арктике?
1) пингвины; 2) морские зайцы;
3) морские леопарды; 4) белые медведи.
12. Жаркий (+25...+30°C), сухой (влажность 30%), сильный (скорость более 5 м/с) ветер в течении нескольких дней. О каком неблагоприятном климатическом явлении, встречающемся на территории России, идет речь:
1) засуха; 2) суховей;
3) пыльная буря; 4) ураган?
13. Бурный грязе-каменный поток, часто возникающий на окончании ледника при сильных ливнях или при интенсивном таянии снега, перемещающийся по склону и несущий с собой массу камней – это:
1) оползень; 2) наводнение;
3) сель; 4) морена.

14. Австралия – это единственный материк на котором нет ...

- 1) действующих вулканов 2) гор
3) равнин 4) пустынь

15. В каких полушариях находится Африка?

- 1) северном, южном, восточном
2) южном, восточном, западном
3) северном, южном, восточном, западном
4) северном, восточном, западном

Ответы:

Вопрос	1	2	3	4	5	6	7	8	9	10	11	12	13	14	15
Ответ															
Количество баллов															
Итого															

Задания 16-18 предполагают развернутые ответы в виде слов, словосочетаний и т.д. Максимальное количество баллов – 15.

16. Какие из ниже перечисленных географических объектов находятся на указанных материках? Запишите их названия рядом с названием материка. (Максимальное количество 5 баллов)

Материки

А) Австралия _____

Б) Африка _____

В) Евразия _____

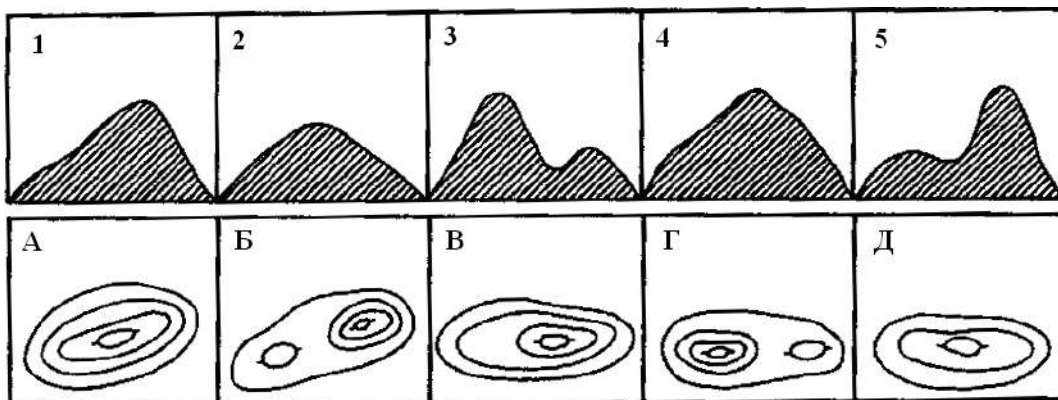
Г) Северная Америка _____

Д) Южная Америка _____

Географические объекты: 1) Великие равнины; 2) р. Парана; 3) Большая пустыня Виктория; 4) влк. Килиманджаро; 5) пустыня Гоби.

(за каждый правильный ответ 1 балл)

17. Определите, какому изображению холма горизонталями соответствует вид холма, выполните задание, результаты занесите в таблицу (каждый правильный ответ оценивается 1 баллом, максимальное количество - 5 баллов):



1	2	3	4	5

18. Определите географический объект (правильный ответ – 5 баллов):

К острову Котлин, на котором расположен город, примыкает дамба. Основное ее назначение – защита города-героя от наводнения.

Петр I исключительно высоко оценил стратегическое положение города-крепости: «Оборону флота и сего места держать до последней силы и живота яко наиглавнейшее дело». (Из указа, 18 мая 1720 г.).

В городе начинали службу многие известные моряки: Ф.Ф. Ушаков, В.М. Головин, О.Е. Коцебу, Г.И. Невельский, Ф.П. Литке, П.С. Нахимов и др.

Интересен здесь знаменитый футшток, от которого начинается балтийская система измерения высот.

Назовите этот город.

Ответ: _____

Теоретический тур

Задание 1 (максимальное количество – 30 баллов):

По отрывкам из географической характеристики определите материк и заполните пропуски в тексте подходящими по смыслу географическими названиями и терминами. Если термин написан правильно, то выставляется 2 балла, если допущена орфографическая ошибка, то – 1 балл.

Материк _____

С запада материк омывается водами _____ океана, а востока – _____.

С соседней частью света, _____, материк соединяет _____ перешеек, сейчас через него проходит судоходный канал.

На севере материка расположена пустыня _____, а на востоке – крупное _____ плоскогорье.

Крупнейшей горной системой является _____, а большая часть материка расположена на древней платформе, которая в древности была частью южного суперматерика _____.

Самая полноводная река – _____ обладает и самой большой на материке площадью _____, её течение достаточно бурное, много порогов и водопадов.

Самыми известными из них являются каскады водопадов _____ в среднем течении и _____ в нижнем течении, названные в честь известных путешественников.

На юге материка расположены приокеаническая пустыня _____, одна из самых сухих в мире и пустыня _____.

Задание 2 (максимальное количество баллов – 15 баллов)

Рассмотрите рисунок и выполните задания


















УСЛОВНЫЕ ЗНАКИ К ПЛАНУ МЕСТНОСТИ



Замените топографические знаки словами.

Ответ _____

Запишите текст с замененными словами и подчеркните их.

Лето. Мы приехали отдыхать к родителям в  , через который протекает  . В солнечный день мы решили прогуляться по  . Наш путь шел от дома, по  до  . На берегу, мы решили сделать привал, дабы насладиться всеми красотами природы. Отдохнув, мы отправились дальше. Повернув на запад, мы пошли по  , на котором кое-где стояли  . Идя вдоль  , путь нам перегородил  . Пройдя по нему вверх по течению, мы увидели  . Напившись холодной родниковой воды, мы отправились дальше. Обойдя  и  , мы подошли к  . Гуляя по нему, мы собрали много ягод и грибов. Вечерело. Нужно держать путь домой. По  мы вышли к  . И на электричке отправились домой.

Задание 3

Назовите 5 художественных фильмов, которые снимали на территории и в окрестностях Кавказских Минеральных Вод (за каждый правильно названный фильм – 5 баллов, максимальное количество баллов – 25):

1. _____
2. _____
3. _____
4. _____
5. _____

Школьный этап
всероссийской олимпиады школьников по географии 9 класс.
2023-24 уч.г.

Максимальное количество: **100 баллов.**

Тестовая часть

Задание I. Прочитайте предложенные вопросы, на каждый вопрос дайте только один правильный ответ. (Задания оцениваются в 1балл. Максимальное количество баллов – 20.)

1. С какой из перечисленных стран Россия имеет сухопутную границу?
1) Киргизия 2) Чехия 3) Литва 4) Франция
2. Выберите пару государств, с которыми Россия имеет менее протяженную сухопутную границу: 1) Казахстан и Китай 2) Грузия и Азербайджан
3) КНДР и Норвегия 4) Польша и Литва
3. В каком из перечисленных районов России плотность населения наибольшая?
1) Республика Коми 2) Республика Карачаево-Черкессия
3) Магаданская область 4) Чукотский АО
4. Какой из перечисленных городов является наиболее крупным по численности населения? 1) Воркута 2) Якутск 3) Новосибирск
4) Красноярск
5. Какой народ, относящийся к тюркской группе алтайской языковой семьи, исповедует православие?
1) татары 2) башкиры 3) чувашаи 4) казахи
6. Выберите город, расположенный севернее Полярного круга.
1) Анадырь 2) Архангельск 3) Якутск 4) Мурманск
7. Найдите морской объект, который омывает берега России.
1) Бенгальский залив 2) Индийский океан 3) Северное море
4) Керченский пролив
8. Столицей, какой республики в составе Российской Федерации является город Элиста?
1) Чувашии 2) Татарстана 3) Калмыкии 4) Мордовии
9. Выберите ряд, в котором все города имеют население более 1 мил. человек
1) Москва, Воронеж, Архангельск 2) Омск, Челябинск, Владивосток
3) Новосибирск, Казань, Уфа 4) Самара, Волгоград, Иркутск
10. Выберите неверную пару областей-соседей.
1) Свердловская-Челябинская 2) Орловская-Рязанская 3) Томская-Омская
4) Тверская-Псковская
11. Иммигранты – это...
1) люди, приезжающие в страну 2) люди, уезжающие из страны
3) передвижение населения по территории страны 4) рост доли городского населения за счёт сельского

12. В каком из перечисленных регионов России зимы наиболее холодные?

- 1) Калининградская область
- 2) Якутия
- 3) Астраханская область
- 4) Татарстан

13. Для какой из перечисленных территорий России, расположенных в умеренном климатическом поясе, характерен резко континентальный климат?

- 1) Приморье
- 2) Кольский полуостров
- 3) полуостров Камчатка
- 4) Забайкалье

14. На какой из перечисленных рек наводнение наиболее часто происходит в летнее время?

- 1) Амур
- 2) Волга
- 3) Дон
- 4) Кама

15. Какой буквой на политико-административной карте России обозначен Ненецкий автономный округ?



- 1) А
- 2) В
- 3) С
- 4) Д

16. Группа туристов из Италии хочет своими глазами увидеть необычную для них природу российской тундры. Какой заповедник им необходимо для этого посетить?

- 1) Курильский
- 2) Таймырский
- 3) Оренбургский
- 4) Алтайский

17. К традиционным занятиям, какого из перечисленных народов России относится оленеводство и рыболовство.

- 1) башкиры
- 2) калмыки
- 3) ненцы
- 4) кабардинцы

18. Какой физико-географический объект объединяет такие страны как Россия, Туркмения, Иран, Казахстан, Азербайджан?

- 1) Каспийское море
- 2) Кавказские горы
- 3) Уральские горы
- 4) Прикаспийская низменность

19. Какой из перечисленных городов России находится в основной полосе расселения?

- 1) Мурманск
- 2) Краснодар
- 3) Магадан
- 4) Норильск

20. В каком областном центре располагается памятник «Родина-Мать»?

- 1) Саратов
- 2) Астрахань
- 3) Воронеж
- 4) Волгоград

Теоретическая часть.

Задание 2. Установите соответствие. (Каждое задание оценивается в 5 баллов. Максимальное количество баллов – 25.)

1. Установите соответствие между республиками и их столицами.

- | | |
|-----------------|--------------|
| 1. Чувашия | А. Казань |
| 2. Башкортостан | Б. Элиста |
| 3. Татарстан | В. Чебоксары |
| 4. Калмыкия | Г. Уфа |

2. Установите соответствие между странами и столицами.

- | | |
|--------------|-----------------|
| 1. Япония | А. Аддис-Абеба |
| 2. Канада | Б. Буэнос-Айрес |
| 3. Аргентина | В. Токио |
| 4. Эфиопия | Г. Оттава |

3. Установите соответствие между природными зонами и почвами.

- | | |
|--------------------------|-----------------|
| 1. Тайга | А. Каштановые |
| 2. Степи | Б. Серые лесные |
| 3. Пустыни и полупустыни | В. Чернозёмные |
| 4. Смешанные леса | Г. Подзолистые |

4. Установите соответствие между материком и географическим объектом.

- | | |
|--------------|------------------------|
| 1. Евразия | А. р.Муррей |
| 2. Австралия | Б. г.Аконкагуа |
| 3. Ю.Америка | В. пустыня Гоби |
| 4. Африка | Г. вулкан Килиманджаро |

5. Установите соответствие между российским путешественником и открытием.

- | | |
|----------------------|--|
| 1. С.И.Дежнев | А. исследование Центральной Азии |
| 2. Н.М.Пржевальский | Б. первое русское кругосветное плавание |
| 3. Ф.Ф.Беллинсгаузен | В. открытие пролива между Азией и Америкой |
| 4. И.Ф.Крузенштерн | Г. открытие Антарктиды |

Задание 3. Определите по описанию субъект РФ. (Каждый вопрос оценивается в 2 балла. Максимальное количество баллов – 20.)

- 1.Островная область России.
- 2.На территории области располагается крайняя северная (островная) точка России.
- 3.На гербе этой области красуется верблюд.
- 4.В этой области начинается река Волга.
- 5.Эта область последней на территории России встречает Новый год.
- 6.В этой области находится «Родина Деда Мороза».
- 7.К этому субъекту федерации относится курортный город Сочи.
- 8.Этот субъект самый восточный в РФ.
- 9.В этом субъекте находится Кунгурская ледяная пещера.
- 10.На территории этого субъекта находится знаменитая долина гейзеров.

Задание 4. Решите географические задачи. (Каждая задача оценивается в 4 балла. Максимальное количество баллов – 20.)

1. Определите масштаб плана местности, если улица длиной в 2 км изображена на нём линией длиной в 8 см.
2. На какую высоту поднялся самолёт, если за его бортом температура -30°C , а у поверхности Земли $+12^{\circ}\text{C}$?
3. Определите среднесуточную температуру воздуха по следующим данным: в 6 ч. $+10^{\circ}\text{C}$, в 12 ч. $+15^{\circ}\text{C}$, в 18 ч. $+13^{\circ}\text{C}$, в 20 ч. $+10^{\circ}\text{C}$.
4. Рассчитайте уровень безработицы в стране, если количество трудовых ресурсов составляет 18 млн. человек, а количество официально зарегистрированных безработных – 5,5 млн. человек.
5. В каком направлении надо перевести стрелки часов, если вы перелетели на самолёте из Иркутска в Москву? (Для решения воспользуйтесь картой часовых поясов).



ЛИСТ ОТВЕТОВ

Задание I. Прочитайте предложенные вопросы, на каждый вопрос дайте только один правильный ответ. (Задания оцениваются в 1 балл. Максимальное количество баллов – 20.)

№	1	2	3	4	5	6	7	8	9	10	11	12	13	14	15	16	17	18	19	20	
Ответ																					

Задание II. Установите соответствие. (Каждое задание оценивается в 4 балла. Максимальное количество баллов – 20.)

№	1	2	3	4	5					
Ответ	1		1		1		1		1	
	2		2		2		2		2	
	3		3		3		3		3	
	4		4		4		4		4	

Задание III. Определите по описанию субъект РФ. (Каждый вопрос оценивается в 1 балл. Максимальное количество баллов – 10.)

№	Ответ
1	
2	
3	
4	
5	
6	
7	
8	
9	
10	

Задание IV. Решите географические задачи. (Каждая задача оценивается в 2 балла. Максимальное количество баллов – 10 баллов)

№	Решение
1	
2	
3	
4	
5	

**ВСЕРОССИЙСКАЯ ОЛИМПИАДА ШКОЛЬНИКОВ
ПО ГЕОГРАФИИ 2023–2024 уч. г.
ШКОЛЬНЫЙ ЭТАП 10 - 11 КЛАСС**

Тест

1. Выберите, какое из государств Африки является монархией:
А) Лесото Б) Алжир В) Танзания Г) Уганда
2. Какому направлению соответствует азимут 135° ?
А) С-СЗ Б) С-СВ В) ЮЗ-З Г) Ю-В Д) З
3. Область атмосферного давления с замкнутыми овальными изображениями и наименьшим давлением в центре. Воздух перемещается от периферии к центру и по спирали вверх - ...
А) Циклон Б) Антициклон В) Воздушная масса Г) Атмосферный фронт
4. К исчерпаемым возобновимым ресурсам относятся
а) Внутреннее тепло Земли в) Водные ресурсы
б) Железные руды г) Энергия ветра
5. Изменение климата, вод, почв, растительности, животного мира в горах с изменением абсолютной высоты...
А) Высотная поясность Б) Температурная инверсия В) Широтная зональность
6. Какое растение является символом Ирландии?
А) Полынь Б) Хризантема (Сакура) В) Орхидея Г) Клевер (Трилистник)
7. Региональная экономическая организация, в состав которой входят 14 стран Латинской Америки со штаб-квартирой в Монтевидео называется...
А) НАФТА (NAFTA) В) ЛАИ (LAIA)
Б) АСЕАН (ASEAN) Г) МЕРКОСУР (MERCOSUR)
8. Какой из перечисленных особо охраняемых природных объектов не находится на территории США?
А) Национальный парк Эверглейдс Г) Мамонтова пещера
Б) Большой Каньон р. Колорадо Д) Национальный парк Севан
В) Каскадные горы Е) Долина Смерти
9. Что такое речной сток?
А) Количество воды, проходящее через русло реки за определённое время
Б) Направление стока поверхностных вод на определенной территории
В) Количество воды реки, расходуемое на орошение в год
Г) Количество воды, приносимое притоками в основное русло
10. Что такое «легитимные границы»?
А) Проходящие вдоль рек В) Исторические сложившиеся
Б) Определенные договорами Г) Морские
11. Какой вид животных искусственно привнесен в состав фауны России?
А) Барсук Б) Хорек В) Енот Г) Ласка

12. В тундре не обитают:

- А) северные олени Б) лемминги В) песцы Г) белые медведи

13. Выберите остров, где продолжительность светлого времени суток в течение года меняется меньше всего.

- А) Тасмания Б) Суматра В) Тайвань Г) Огненная Земля

14. Что такое «польдеры»?

- а) Форма мерзлотного рельефа в Канаде и на Аляске.
б) Форма организации поселения в Латинской Америке.
в) Земля, отвоёванная у моря в Нидерландах.
г) Название культовых сооружений в Скандинавии.

15. Какое из перечисленных озер не относится к системе Великих американских озер?

- А) Верхнее Б) Мичиган В) Виннипег Г) Эри Д) Онтарио

16. Выберите правильное сочетание: страна – преобладающий тип электростанций:

- А) Норвегия – ГЭС Б) ФРГ – АЭС В) Франция – ТЭС Г) США – АЭС

17. Выберите **ошибочное** утверждение о рельефе Африки:

- а) Преобладают равнины высотой от 200 до 1000м.
б) По окраинам материка расположены обширные низменности.
в) Наименьшая абсолютная высота – уровень озера Ассаль.
г) На материке нет высоких и протяжённых горных цепей.

18. Выберите вариант, где правильно указано месторасположение природной зоны на материке Южная Америка.

- А) Льянос – Бразильское плоскогорье. В) Сельвас – Оринокская низменность.
Б) Кампос – Амазонская низменность. Г) Пампа – Ла-Платская низменность.

19. Определите, какое из государств Азии имеет выход к океану

- А) Бутан Б) Мьянма В) Казахстан Г) Монголия

20. В какой из перечисленных горных систем высота снеговой линии расположена ниже всего?

- А) Алтай В) Тянь-Шань
Б) Килиманджаро Д) Атлас
В) Кавказ Е) Урал

Теоретический тур (60 баллов).

Задача 1. (25 баллов)

22 июня 2023 года из города – краевого центра РФ, равноудалённого от Северного полюса и экватора, где угол падения солнечных лучей в этот день составлял $68,5^\circ$, вывезли продовольственные товары. Грузовая машина направилась на северо – запад и, преодолев 1665 км, доставила товар заказчику в город – миллионер, занимающий второе место в России по численности населения. Определите:

- А) название пункта отправки и его географическую широту.
Б) название пункта назначения и его географическую широту.
В) набор продовольственных товаров, транспортируемых в пункт назначения (не более 5)
Г) время, которое затратил водитель на доставку, при скорости 90 км/ч

Д) какие товары может привезти обратно в краевой центр грузоперевозчик? (не более 5)

Задача 2. (20 баллов)

В политической географии под этим термином понимают «...часть территории государства, полностью окружённая территорией другого государства». Иногда, вся территория государства окружена территорией соседнего государства.

О каком термине идет речь? Такая территория есть у РФ. Как она называется?

По приведенным ниже описаниям определите страны мира, которые можно назвать этим термином, а также страны, которые их окружают. Заполните таблицу на листе ответов

Описание 1. Является самым маленьким государством континентальной Африки. Территория имеет вытянутую вдоль одноименной реки форму. Экономически слабо развитое аграрное государство, основным продуктом экспорта является арахис (40% стоимости экспорта).

Описание 2. Государство находится на северо-западном берегу третьего по площади острова в мире. Форма правления – абсолютная теократическая монархия. Основу экономики государства составляет добыча и переработка нефти, благодаря чему по показателю ВВП на душу населения страна входит в ТОП-30.

Описание 3. Самое старое государство Европы. Название происходит от имени христианского святого, согласно легенде основавшего государство. Основными отраслями экономики страны являются банковское дело, туризм, электронная промышленность и виноделие.

Описание 4. Африканское государство, вся территория которого находится выше 1400 м над уровнем моря. По форме правления является конституционной монархией. Одной из главных проблем в стране является высокий уровень заражения населения ВИЧ (29%, третье место в мире).

Описание 5. Одна из наиболее густонаселённых стран мира. Государство получило независимость в 1297 г. в ходе гражданской войны в Генуэзской республике. Основу экономики составляют туризм, игорный бизнес и торговля недвижимостью.

Задача 3. (15 баллов)

Эта сельскохозяйственная культура относится к роду многолетних травянистых растений семейства *Musaceae*. Благоприятные условия для ее произрастания имеются между 30° с. ш. и 30° ю. ш., на высоте до 2000 м над уровнем моря, засушливый сезон не должен длиться более 3 месяцев в году, а средняя норма осадков должна составлять не менее 100 мм в месяц. Согласно данным Продовольственной организации ООН за 2012 год, по количеству собранного урожая эта культура находится на двенадцатом месте среди выращиваемых культур, ежегодно в мире собирают около 102 млн тонн.

В таблице 1 приведены основные производители данной культуры в мире. Однако, во многих странах из этого списка производство направлено на местный рынок. Для стран, занимающихся экспортом этой культуры, американский писатель О. Генри в начале XX века предложил «шуточный» термин, означающий экономически и политически слабое государство полностью зависящие от экспорта фруктов.

О какой сельскохозяйственной культуре идет речь? Укажите 4 страны-экспортера этой культуры, находящихся в одном регионе. Рассчитайте их суммарную долю в мировом производстве этой культуры. Как О. Генри называл такие государства?

Таблица 1.

15 крупнейших стран-производителей в 2012 году

Страна	Производство, тысяч тонн
Индия	24869
КНР	10845
Филиппины	9225
Эквадор	7012

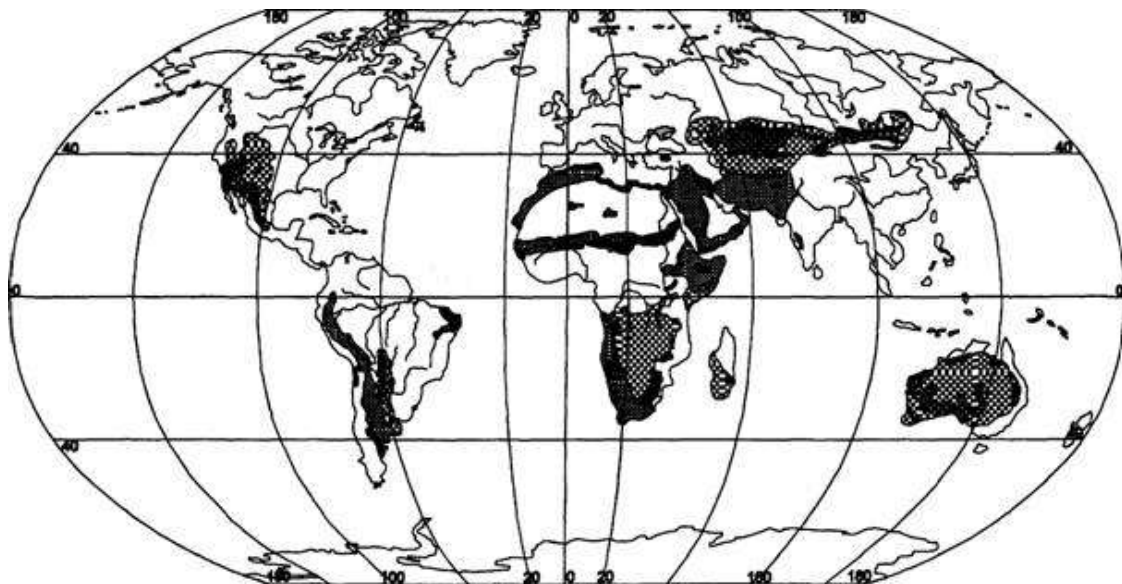
Бразилия	6902
Индонезия	6189
Гватемала	2700
Танзания	2524
Мексика	2204
Коста-Рика	2136
Колумбия	1982
Таиланд	1650
Вьетнам	1560
Папуа — Новая Гвинея	1180
Египет	1129

Практический тур (20 баллов).

Задание.

Внимательно прочтите текст, изучите картосхему, на которой изображено территориальное распространение одной из экологических проблем современного мира и ответьте на вопросы. «На сегодняшний день под угрозой, изображённого на картосхеме процесса, находится примерно 19 % суши Земли. В нашей стране, по разным оценкам, этому процессу подвержены территории 36 субъектов. Известно, что во многом этот негативный процесс связан с хозяйственной деятельностью людей. 17 июня – Международный День борьбы с данной экологической проблемой»

- 1) Определите, как называется эта экологическая проблема.
- 2) В чём она проявляется?
- 3) Укажите антропогенные причины данной экологической проблемы (не менее 2).



- 4) Познакомьтесь с перечнем местных географических терминов, связанных с территориями, где существует рассматриваемая экологическая проблема, и разбейте их на три группы. Дайте названия этим группам. Перечень местных географических терминов: «буш», «гамада» («хамада»), «гарига», «маквис», «пампасы», «прерия», «пуста», «такыр», «эрг».
- 5) Дайте определения 3-м местным географическим терминам, обозначающим тип пустыни.
- 6) На каких материках нашей планеты употребляют термины, которым вы дали определения?

ВСЕРОССИЙСКАЯ ОЛИМПИАДА ШКОЛЬНИКОВ

ШКОЛЬНЫЙ ЭТАП 10 – 11 КЛАСС

2023-2024 ГОД.

ГЕОГРАФИЯ

ЛИСТЫ ДЛЯ ОТВЕТА НА ЗАДАНИЯ

ОБЩЕОБРАЗОВАТЕЛЬНАЯ ОРГАНИЗАЦИЯ:

КЛАСС:

НАСЕЛЕННЫЙ ПУНКТ:

Тест

1	2	3	4	5	6	7	8	9	10	11	12	13	14	15	16	17	18	19	20	

Аналитический раунд

ЗАДАЧА 1.

А. _____

Б. _____

В. _____

Г. _____

Д. _____

ЗАДАЧА 2

Термин: _____

Территория в РФ _____

Страны-соседи региона РФ _____

описание	страна	столица	Страна-сосед
1			
2			

3			
4			
5			

ЗАДАЧА 3

Сельскохозяйственная культура: _____

Страны-экспортеры: 1) _____

2) _____

3) _____

4) _____

Суммарная доля и её расчёт:

Как О. Генри называл такие государства: _____

ПРАКТИЧЕСКИЙ РАУНД.

1) Экологическая проблема: _____

2) В чём проявляется:

3) Антропогенные причины:

4) Группы терминов и их названия:

Группа 1 – _____

Группа 2 – _____

Группа 3 – _____

5) Определения видов пустынь

6) Материки: _____